






Vercingétorix



Jules César

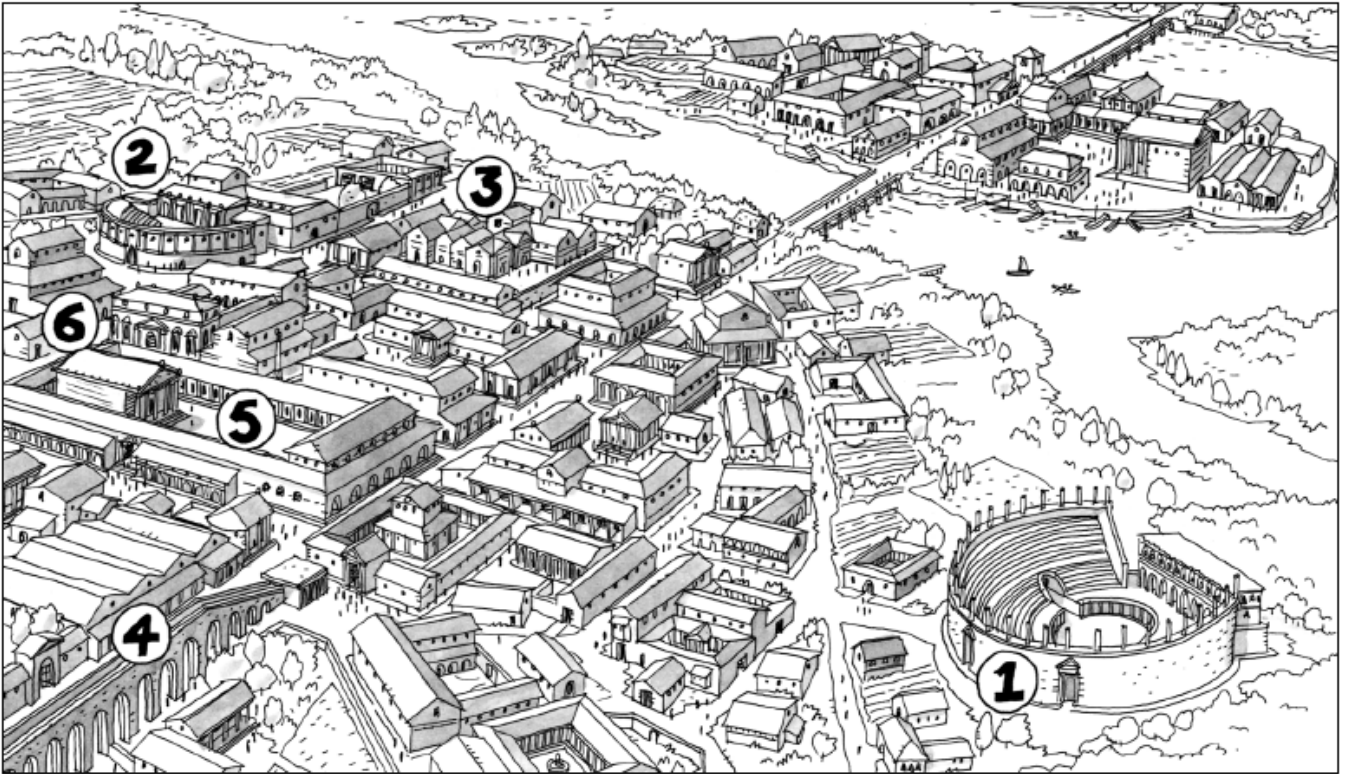




LES ROMAINS

LES GAULOIS

Avec le retour de la paix en Gaule, les villes s'embellissent.



Reconstitution de Lutèce au II^e siècle

À l'aide du dessin ci-dessus et des définitions ci-dessous, retrouve le nom des constructions représentées : *aqueduc* – *arènes* – *forum* – *temple* – *théâtre* – *thermes*.

1. Lieu destiné aux jeux publics : _____
2. Édifice où l'on donne des spectacles : _____
3. Établissement de bains : _____
4. Canal servant à conduire l'eau d'un lieu à un autre : _____
5. Centre de la vie politique, commerciale et juridique : _____
6. Lieu où sont célébrés les dieux : _____

Numérote ces monuments selon la légende de l'exercice précédent.

Attention ! L'un d'eux ne figure pas dans la légende. Ecris son nom directement sur/sous/à côté de l'image.

